

2 класс**Вариант 1**

Выполни задания. В каждом задании выбери правильный ответ из 4 возможных. Правильный ответ всегда только один.

Правильный ответ можно обводить в тексте работы или отмечать значком X в бланке ответов.

Нельзя пользоваться учебниками, рабочими тетрадями, справочниками, калькулятором.

Задание 1

Какое число находится между числами 7 и 18?

- А. 6 Б. 12 В. 20 Г. 19


Задание 2

У Максима 10 наклеек, а у Даши — на 4 наклейки меньше. Значит, у Даши

- А. 7 наклеек Б. 18 наклеек В. 14 наклеек Г. 6 наклеек

Задание 3

Какое предложение, составленное по рисунку, верно?



- А. Квадратов и кругов одинаковое количество. Б. Треугольников больше, чем кругов.
В. Квадратов больше, чем треугольников. Г. Кругов больше, чем квадратов.

Задание 4

Какое число надо вставить в \square , чтобы получилось верное равенство? $17 - \square = 8$

- А. 8 Б. 10 В. 9 Г. 11

Задание 5

После того как Нина решила 8 примеров, ей осталось решить ещё 5. Сколько примеров было в задании?

- А. 10 Б. 13 В. 15 Г. 18

Задание 6

Какое число можно заменить суммой одинаковых слагаемых?

- А. 9 Б. 12 В. 15 Г. 17

Задание 7

На рисунке большая матрёшка ...



- А. четвертая справа Б. находится в центре В. четвертая слева Г. шестая слева






Задание 8

Какой пример решён верно?

- А. $13 - 4 = 10$ Б. $6 + 8 = 12$ В. $12 - 3 = 7$ Г. $17 - 9 = 8$

Задание 9

В таблице записано, что собрала бабушка на даче.

				
1 кг	4 кг	6 кг	5 кг	3 кг


Из ягод она сварила варенье. Сколько килограммов ягод пошло на варенье?
Задача решается так:

- А. $1 + 4 + 6$ Б. $1 + 4 + 6 + 5$ В. $1 + 4 + 5$ Г. $4 + 3 + 1 + 6 + 5$

Задание 10

У какой фигуры название записано верно?

А. круг



Б. отрезок



В. ломаная

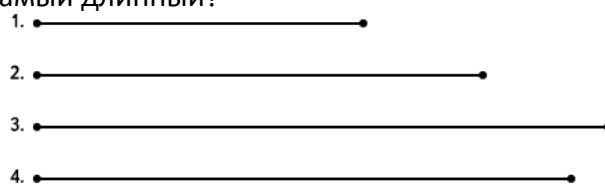


Г. квадрат



Задание 11

Какой отрезок самый длинный?



- А. 1 Б. 2 В. 3 Г. 4


Задание 12

Выбери неверное предложение.

- А. С помощью линейки можно измерить длину отрезка. Б. С помощью линейки можно измерить ширину тетради.
- В. С помощью линейки можно измерить длину прямой. Г. С помощью линейки можно измерить высоту чашки.

Задание 13*

Рассмотри рисунок.



Сколько стаканов не хватает на столе?

- А. 3 Б. 4 В. 2 Г. 5

Задание 14*

В каком примере результат будет отличаться от остальных?

- А. $19 - 1$ Б. $10 + 8$ В. $8 + 7$ Г. $9 + 9$

Задание 15*

Укажи верное неравенство.

- А. $6 + 3 < 10 - 4$ Б. $2 + 4 > 8 - 2$ В. $5 + 4 < 12 - 3$ Г. $7 + 3 > 11 - 2$