

**2 класс****Вариант 2**

**Выполни задания. В каждом задании выбери правильный ответ из 4 возможных. Правильный ответ всегда только один.**

**Правильный ответ можно обводить в тексте работы или отмечать значком X в бланке ответов.**

**Нельзя пользоваться учебниками, рабочими тетрадями, справочниками, калькулятором.**

**Задание 1**

Какое число больше 9, но меньше 15?

- А. 8                      Б. 14                      В. 16                      Г. 18

**Задание 2**

Даша прочитала 9 страниц, а Ваня — на 3 страницы больше. Значит Ваня прочитал ... .

- А. 6 страниц              Б. 11 страниц              В. 12 страниц              Г. 13 страниц

**Задание 3**

Какое предложение, составленное по рисунку, верно?



- А. Квадратов и треугольников одинаковое количество.      Б. Треугольников больше, чем кругов.  
В. Квадратов больше, чем треугольников.      Г. Кругов больше, чем квадратов.

**Задание 4**

Какое число надо вставить в  $\square$ , чтобы получилось верное равенство?  $8 + \square = 12$

- А. 5                      Б. 6                      В. 4                      Г. 3

**Задание 5**

Насте задали решить 16 примеров. После того как она решила несколько примеров, ей осталось решить ещё 9. Сколько примеров решила Настя?

- А. 7                      Б. 1                      В. 8                      Г. 10

**Задание 6**

Какое число нельзя заменить суммой одинаковых слагаемых?

- А. 8                      Б. 12                      В. 15                      Г. 20

**Задание 7**

На рисунке мяч с двумя полосками ...



- А. четвёртый справа    Б. третий слева    В. шестой слева    Г. шестой справа






**Задание 8**

Какой пример решён верно?

- А.  $7 + 7 = 13$     Б.  $16 - 8 = 9$     В.  $4 + 9 = 13$     Г.  $12 - 5 = 8$

**Задание 9**

В таблице записано, какой урожай собрала семья.

				
8 кг	3 кг	6 кг	10 кг	2 кг


Сколько килограммов овощей собрала семья? Задача решается так:

- А.  $8 + 3 + 6$     Б.  $8 + 2 + 3$     В.  $6 + 10$     Г.  $8 + 3 + 10 + 6 + 2$

**Задание 10**


У какой фигуры название записано верно?

- А. круг                      Б. луч                      В. отрезок                      Г. квадрат



**Задание 11**

Какой отрезок самый короткий?



A. 1

Б. 2

В. 3

Г. 4

**Задание 12**

Выбери неверное предложение.

А. С помощью линейки можно начертить отрезок.

Б. С помощью линейки можно начертить ломаную.

В. С помощью линейки можно начертить квадрат.

Г. С помощью линейки можно начертить овал.

**Задание 13\***

Рассмотри рисунок.



Сколько салфеток не хватает на столе?

A. 5

Б. 3

В. 4

Г. 2

**Задание 14\***

В каком примере результат будет отличаться от остальных?

A.  $9 + 5$ Б.  $20 - 6$ В.  $8 + 5$ Г.  $6 + 8$ **Задание 15\***

Укажите верное неравенство.

A.  $4 + 2 < 10 - 5$ Б.  $1 + 7 > 10 - 2$ В.  $6 + 3 > 12 - 2$ Г.  $8 + 4 < 7 + 6$