

ФАМИЛИЯ

КЛАСС  -

ИМЯ

Отметьте верный вариант ответа. Время выполнения работы - 90 минут.

**Часть I. За каждое верно выполненное задание начисляется 6 баллов.**

1. Какая страна одновременно входит в состав НАТО и Европейского Союза?

1  Норвегия

2  Финляндия

3  Испания

2. Выберите изображение Канадской территории.

1



2



3



3. Узнайте страну Европы по фотографиям и укажите, воды каких морей омывают ее территорию с востока.



1  Эгейское и Фракийское

2  Адриатическое и Ионическое

3  Ионическое и Тирренское

4. Выберите столицы внутриконтинентальных стран Азии.

а) Исламабад б) Ашхабад в) Вьентьян г) Дакка

1  а, б


2  б, в

3  в, г

5. Выберите флаг страны, которой принадлежит автомобилестроительная корпорация Aktiebolaget Volvo.



1



2



3

6. Какую страну в колониальный период называли «Берег слоновой кости»?

1  Кот-д'Ивуар

2  Гану

3  Эфиопию

7. Укажите фрагмент карты с выделенным изображением федеративного государства Латинской Америки.



1



2



3

8. Установите соответствие между видом экспортируемого сырья и странами Латинской Америки – поставщиками.

|                |                       |
|----------------|-----------------------|
| 1) нефть       | а) Бразилия, Ямайка   |
| 2) медные руды | б) Чили, Перу         |
| 3) бокситы     | в) Венесуэла, Мексика |

1  1 – в, 2 – б, 3 – а

2  1 – в, 2 – а, 3 – б

3  1 – б, 2 – в, 3 – а

9. Выберите герб страны, в которой официальным языком является персидский.



1



2



3

10. Расположите города Японии в направлении с севера на юг.

- а) Осака    б) Йокогама    в) Саппоро    г) Китакюсю

1  г, б, а, в

2  в, б, а, г

3  в, а, б, г

**Часть II. За каждое верно выполненное задание начисляется 8 баллов.**

11. Разгадайте ребус, укажите субрегион Азии, в состав которого входит загаданная страна.



1  Юго-Западная Азия

2  Восточная Азия

3  Юго-Восточная Азия

12. Вставьте в текст вместо цифр подходящие слова из списка.

*Индия занимает (1) место в мире по площади орошаемой пашни. В северной и центральной Индии четко прослеживается чередование двух сезонов: (2) летнего (3) и (4) зимнего (5). «Рисовые ландшафты» господствуют на (6) страны.*

- Список слов:    а) первое    в) сухого    д) «раби»    ж) юге  
                  б) третье    г) влажного    е) «хариф»    з) севере

1  1-а, 2-г, 3-е, 4-в, 5-д, 6-ж

2  1-б, 2-г, 3-д, 4-в, 5-е, 6-з

3  1-а, 2-в, 3-е, 4-г, 5-д, 6-з

**13.** Определите страну по описанию специализации ее экономики и укажите животное – национальный символ данной страны.

*Экономика страны имеет экспортную ориентацию. Основу экономики составляет сельское хозяйство (молочное животноводство, овцеводство, садоводство, виноградарство), основанное на биотехнологическом производстве. Важное значение имеют рыболовство, лесная и деревообрабатывающая промышленность, пищевая промышленность и туризм. Характерной особенностью страны является практически полное отсутствие крупных промышленных предприятий и отраслей тяжелой промышленности. В энергетике активно используется геотермальная энергия.*



1






2



3

**14.** Установите соответствие между изображением страны Азии и титулом ее правителя.

|   |   |   |
|---|---|---|
| 1)  | 2)  | 3)  |
| а) султан   | б) эмир   | в) король   |

1  1 – б, 2 – а, 3 – в

2  1 – б, 2 – в, 3 – а

3  1 – в, 2 – б, 3 – а

**15.** Узнайте штат США по фотографиям и укажите его положение на карте.



1



2



3