



# Урок математики

## 1 б- 2 класс

Учитель: Хрин А.В.


**Вот звонок нам дал сигнал:**

**Поработать час настал.**

**Так что время не теряем**

**И работать начинаем**



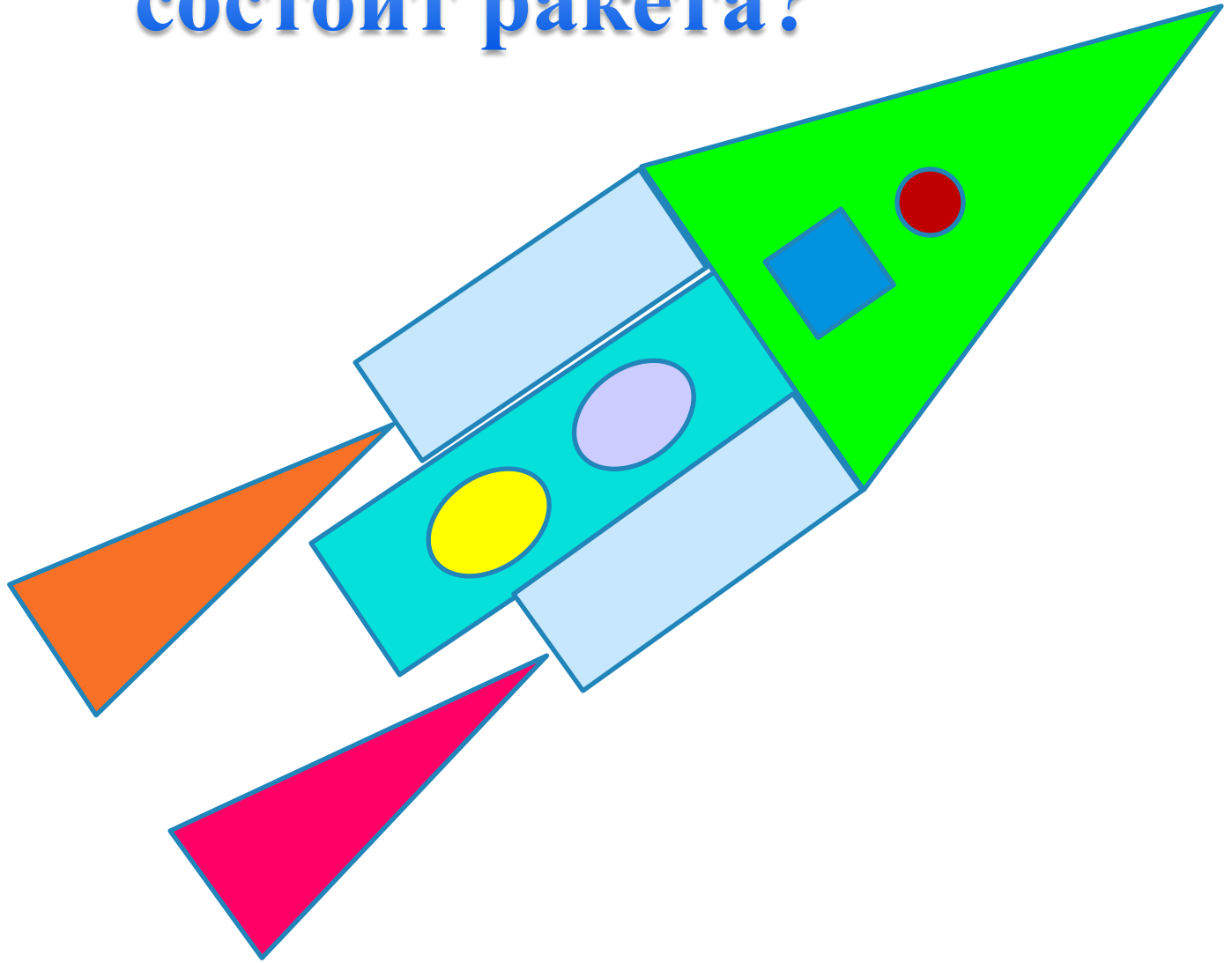


**ВНИМАТЕЛЬНЫМИ**

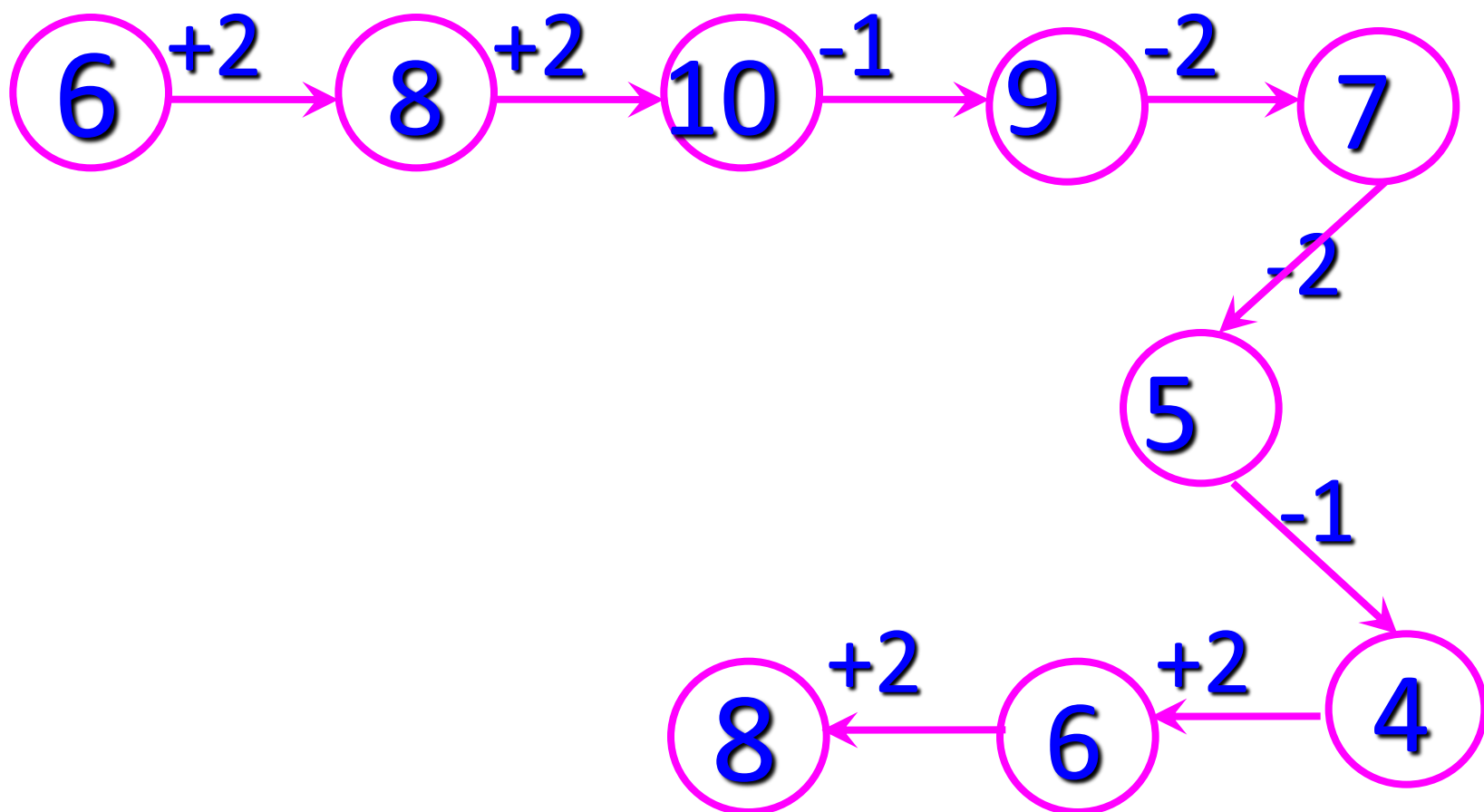
**СТАРАТЕЛЬНЫМИ**

**АКТИВНЫМИ**

**Из каких геометрических фигур  
состоит ракета?**



А теперь посчитаем!



**10,6,9,4,5,8,7,**

**3,2**

**Муха летит выше,  
чем оса, но ниже,  
чем пчела.  
Кто летит выше всех?**





Раз, два, три, четыре, пять....  
Вышли зайцы погулять.  
Двое зайцев потерялись.  
Сколько до дому добрались?

3





**«Четыре сыроежки,  
два рыжика  
и груздь.  
Собрала грибов я много,  
А подсчитать боюсь!»**

**7**



4
а

6	2	8	7	5
а	3	а	4	Д

**задача**

**увеличение**

**уменьшение**



**Задачи на увеличение  
(уменьшение) на несколько  
единиц**



УСЛОВИЕ

ВОПРОС

РЕШЕНИЕ

ОТВЕТ




**В коробке было 7 мелков. Из коробки  
взяли 3 мелка. В коробке осталось 4  
мелка.**

**В коробке были мелки. Из коробки  
взяли 3 мелка.**

**Сколько мелков осталось в коробке?**

**В коробке было 7 мелков. Из коробки  
взяли 2 мелка.**

**Сколько мелков осталось в коробке?**



1 B.



$$4 + 1 = 5$$




2 в.



$$7 - 1 = 6$$

**Что значит увеличить на...?**



**Что значит уменьшить  
на ...?**





**СТОЯЛО**

**СКОЛЬКО**

**А СТАКАНОВ**

**НА ПОЛКЕ?**

**НА 3 МЕНЬШЕ.**

**СТАКАНОВ**

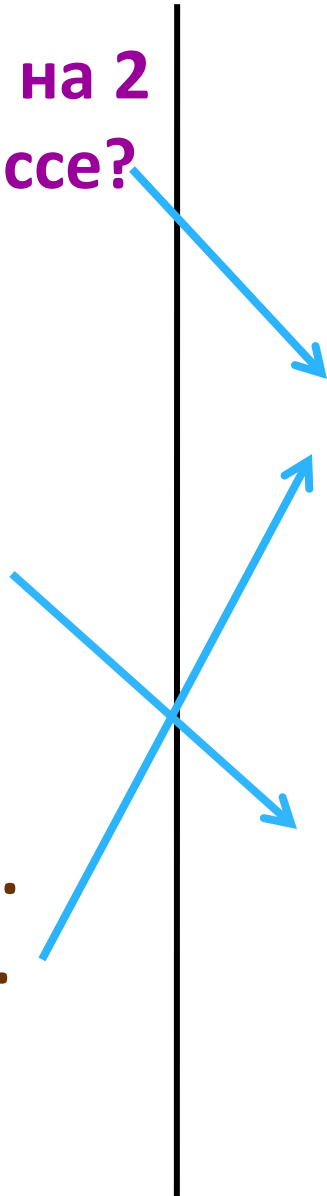
**НА ПОЛКЕ**

**9 ЧАШЕК,**

**На полке стояло 9 чашек,  
а стаканов на 3 меньше.  
Сколько стаканов на полке?**

$$9 - 3 = 6$$

В классе 4 мальчика, а девочек на 2 больше. Сколько девочек в классе?





A vertical black line is positioned in the center of the page. Three blue arrows originate from the left side of the page and point towards the right. The top arrow points to the equation  $4+2=6$ . The middle arrow points to the equation  $4-2=2$ . The bottom arrow points to the text 'Сколько детей на горке?'.


$$4+2=6$$


На катке катались 4 мальчика,  
а девочек на 2 меньше.  
Сколько девочек на катке?

$$4-2=2$$


На горке катались 4 мальчика.  
К ним пришли ещё 2 девочки.  
Сколько детей на горке?












# Назовите геометрические фигуры



$$5 + \mathbf{1} = 6$$

$$7 + \mathbf{1} = 8$$

$$6 + \mathbf{2} = 8$$

$$7 + \mathbf{2} = 9$$

$$8 - \mathbf{1} = 7$$


$$6 + \mathbf{1} = 7$$


$$6 - \mathbf{1} = 5$$

$$5 + \mathbf{2} = 7$$


$$7 - \mathbf{1} = 6$$

# Королёв Сергей Павлович





*Ключеворд:*



$$7 - 1 = 6$$

$$6 + 2 = 8$$


$$7 + 2 = 9$$

$$9 - 1 = 8$$

$$3 + 2 = 5$$

$$5 - 1 = 4$$

$$1 + 2 = 3$$



узнал(а)...

**Я сегодня** запомнил(а)...

повторил(а)...

**Мне понравилось на  
уроке...**